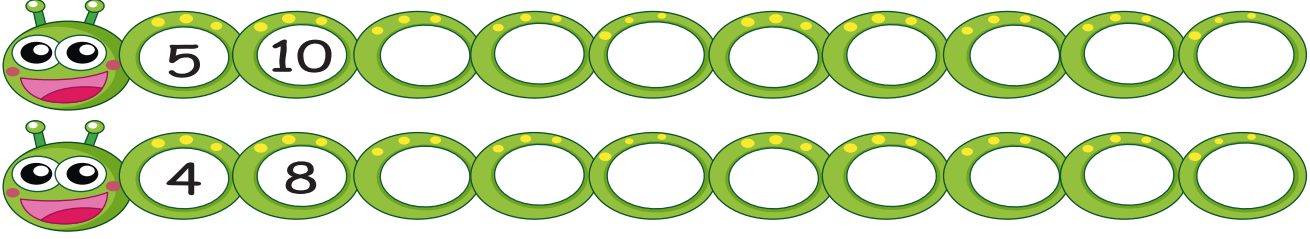




2. SINIF MATEMATİK

Ritmik Sayma - Örüntü

1.) Aşağıdaki tırtılın üzerinde verilmeyen sayıları tamamlayınız.



2.) Aşağıdaki yıldızların üzerine geriye ritmik sayarak sayıları yazınız.



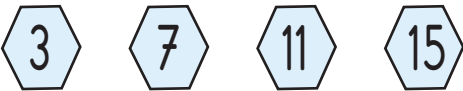
3.) Aşağıdaki soruları cevaplayınız.

1.) 9'dan başlayarak ileriye doğru üçer saydığımızda 5. sayı:.....

2.) 45'ten başlayarak geriye doğru beşer saydığımızda 6. sayı:.....

3.) 36'dan başlayarak geriye doğru ikişer saydığımızda 5. sayı:.....

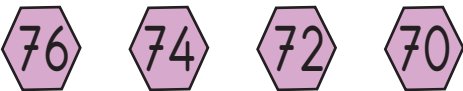
4.) Aşağıdaki örüntülerin kurallarını yazınız.



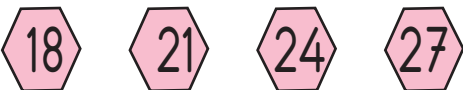
Örüntünün kuralı:.....



Örüntünün kuralı:.....



Örüntünün kuralı:.....



Örüntünün kuralı:.....